

Тест - № 9

1. Спортивный туризм – это (обведите в кружок цифру с правильным ответом или выделите жирным шрифтом):

1А	вид спорта, состоящий из трёх групп спортивных дисциплин: группа дисциплин «маршрут», группа дисциплин «туристское многоборье» и группа дисциплин «дистанция»
1Б	вид спорта, состоящий из двух групп спортивных дисциплин: группа дисциплин «маршрут» и группа дисциплин «дистанция».
1В	деятельность, проводимая туристами-энтузиастами, в виде организации различных туристских мероприятий (походов и соревнований).

2. Ниже представлены фотографии различных туристских соревнований. Впишите под каждой фотографией, к какой группе дисциплин относятся эти соревнования (впишите букву А или Б):

А – соревнования относятся к группе дисциплин "маршрут"

Б – соревнования относятся к группе дисциплин "дистанция"

2.1.	2.2.	2.3.
		
2.4.	2.5.	2.6.
		

3. Какой статус имеют перечисленные в таблице соревнования (впишите справа от названия соревнований букву соответствующего статуса)

Статус соревнований:

А	Б	В	Г
Всероссийский	федерального округа	субъекта Российской Федерации	Муниципальный

Название соревнований	статус
3.1. Соревнования по спортивному туризму города Петрозаводска	
3.2. Чемпионат России по спортивному туризму	
3.3. Первенство Тюменской области по спортивному туризму	
3.4. Чемпионат Республики Карелия по спортивному туризму	
3.5. Чемпионат Муезерского района по спортивному туризму	
3.6. Чемпионат Северо-западного округа по спортивному туризму	

4. Туристские маршруты классифицируются:

А) по степеням (от 1-й до 6-й) и категориям сложности (от 1-й до 3-й)

Б) по степеням (от 1-й до 3-й) и категориям сложности (от 1-й до 6-й)

В) по классам сложности (от 1-й до 6-й)

Правильный ответ: _____

5. В таблице перечислены различные естественные препятствия, которые могут встречаться на туристском маршруте:

А) вершина	Б) порог	В) болото	Г) ледовый участок
Д) каменистые осыпи	Е) густо заросший участок леса	Ж) перевал	З) переправа

Распределите препятствия по группам (впишите название или соответствующую букву в нужную колонку таблицы):

локальные препятствия	протяженные препятствия

6. Туристские дистанции различаются:

А) по степеням (от 1-й до 6-й) и категориям сложности (от 1-й до 3-й)

Б) по степеням (от 1-й до 3-й) и категориям сложности (от 1-й до 6-й)

В) по классам (от 1-й до 6-й)

Правильный ответ: _____




7. В таблице перечислены названия нескольких технических этапов:




А) переправа по бревну,	Б) переправа по тонкому льду,	В) переправа вброд	Г) прохождение ворот по течению,
Д) спуск на лыжах,	Е) переправа по параллельным веревкам,	Ж) прохождение ворот против течения,	З) навесная переправа

На дистанции каких соревнований могут быть включены перечисленные технические этапы (впишите название этапа или соответствующую букву в нужную колонку таблицы):

дистанция лыжная	дистанция пешеходная	дистанция водная

8. В туристских походах и соревнованиях используются различные туристские узлы. Ниже на картинках предложены несколько узлов. Как они называются? (Впишите под каждой картинкой название узла).

8.1.	8.2.	8.3.
		

8.4.	8.5.	8.6.
		

9. Ниже перечислены некоторые узлы, которые разрешено использовать в соревнованиях на дистанции пешеходной:

А) стремя,	Б) встречный,	В) встречная восьмёрка,	Г) австрийский схватывающий,
Д) булинь,	Е) грейпвайн,	Ж) штык,	З) двойной проводник
И) проводник-восьмёрка,	К) симметричный схватывающий	Л) брамшкотовый,	М) австрийский проводник

Распределите эти узлы по группам (впишите название узла или соответствующую букву в нужную колонку таблицы):

для связывания веревок	для крепления к опоре	петлевые	схватывающие

10. На картинках представлено туристское снаряжение. Впишите название под каждой картинкой.

10.1.	10.2.	10.3.
		
10.4.	10.5.	10.6.
		