

Тест № 6

1. Как называется документ, определяющий категорирование маршрута и его определяющих препятствий (Не очень трудно)?

Ответ вписать сюда →	
----------------------	--

2. Вставить недостающие позиции в графы таблицы (Не очень трудно).

???	Виды маршрутов	Протяженность, км	Продолжительность (дней)
2	Велосипедные	80	4-6

Виды туризма и характеристики маршрутов	???					
	I	II	III	IV	V	VI
Продолжительность маршрута в днях (не менее)	6	8	10	13	16	20
Протяженность маршрута в км.(не менее):						
Пешеходных	100	120	140	170	210	250
Лыжных	100	140	180	210	240	270
Водных	150	160	170	180	190	190
Велосипедных	300	400	500	600	700	800

3. Категория сложности (трудно!)

ЗАДАНИЕ В спортивном туризме все перевалы и вершины имеют свою категорию сложности прохождения или восхождения (зимой и летом). Какова категория трудности этих популярных у туристов перевалов и вершин:



Название перевала	Горная система	Категория сложности (летом)
Высоцкого	Горный Алтай	???
Кар-Кар	Приполярный Урал	???
Южный Чоргорр	Хибины	???
50 лет ВЛКСМ	Центральный Кавказ	???
Название перевала	Горная система	Категория сложности (летом)
Белуха (восточная)	Горный Алтай	???
Манарага (главная)	Приполярный Урал	???
Откол	Хибины	???
Ушба	Центральный Кавказ	???

4. Назовите номер-код вида спорта соревнований по спортивному туризму?

Ответ вписать сюда →	
----------------------	--

Задание по картинкам

5. Элементы горного рельефа (впиши правильный ответ)


 <p>что это?</p>	 <p>что это?</p>
<p>6А→</p>	<p>6Б→</p>
 <p>как это называется</p>	 <p>что это?</p>
<p>6В→</p>	<p>6Е→</p>
 <p>пер. Бауманец 2А</p> <p>как это называется?</p>	 <p>как это называется?</p>
<p>6Г (один ответ на две картинки) →</p>	

6. Что здесь произошло?



Ответ вписать сюда →

7. Горный рельеф. (сопоставь названия и цифры)



Поставь в таблице (справа от стрелки) номер, соответствующий названию:

Плечо →	Ригель →	Бергшрунд	Хребет →	Контрфорс →
Трещина	Склон →	Вершина →	Предвершина →	*****

8. Назови самую крупную горную систему на каждом континенте:

1 (Европа) →	
2 (Азия) →	
3 (Африка) →	
4 (Северная Америка) →	
5 (Южная Америка) →	
6 → (Антарктида)	

9. Что это? (Трудно!!!)

	<p>??? →</p>
--	--------------