

1 задание



- а) земляной вал
- б) разрушенная каменная стена
- в) сухая канава

Правильный ответ:



- а) яма
- б) лощина
- в) гора

Правильный ответ:



- а) внемасштабный объект рельефа
- б) воронка
- в) микробугорок

Правильный ответ:



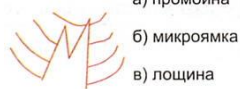
- а) земляной обрыв
- б) земляной вал
- в) основная горизонталь

Правильный ответ:



- а) каменная россыпь
- б) сухая канава
- в) поверхность с микронеровностями

Правильный ответ:



- а) промоина
- б) микроямка
- в) лощина

Правильный ответ:



- а) лощина
- б) обрыв
- в) яма

Правильный ответ:



- а) группа камней
- б) пещера
- в) микробугорок

Правильный ответ:



- а) земляной вал
- б) промоина
- в) земляной обрыв

Правильный ответ:



- а) скальная воронка
- б) пещера
- в) камень

Правильный ответ:

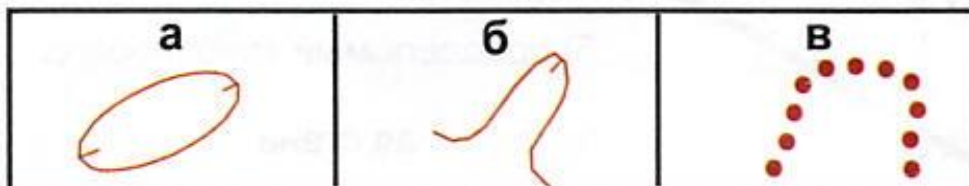


- а) непреодолимая скальная стена
- б) земляной вал
- в) обрыв

Правильный ответ:

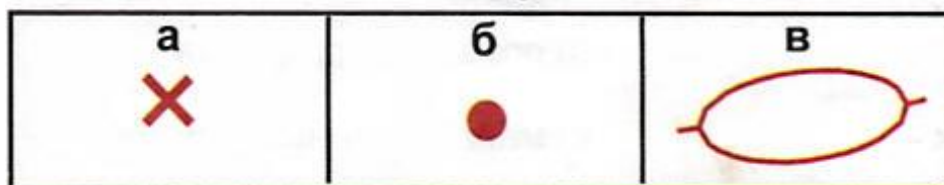
2 задание

лощина



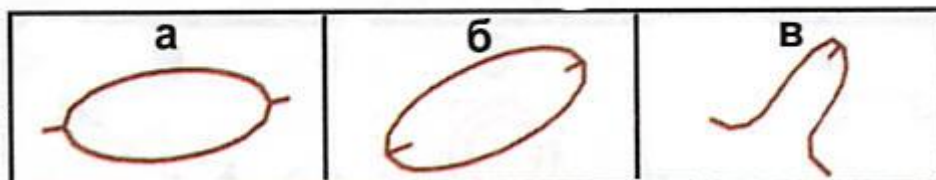
Правильный ответ:

гора



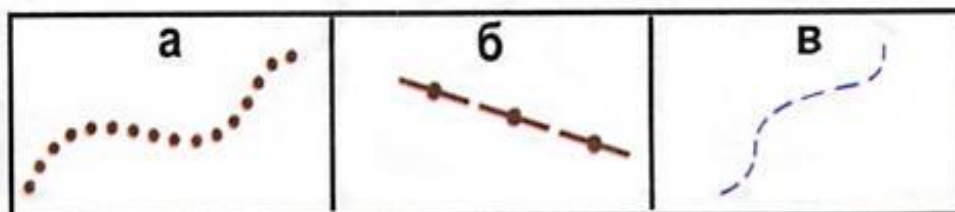
Правильный ответ:

яма



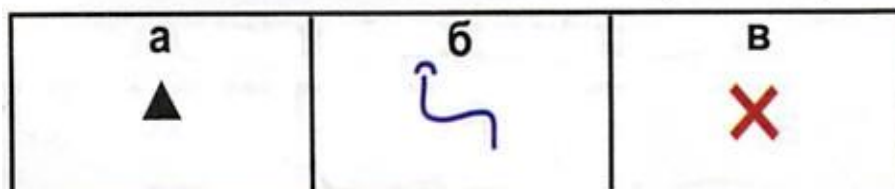
Правильный ответ:

канавка




Правильный ответ:

внемасштабный объект рельефа



Правильный ответ:

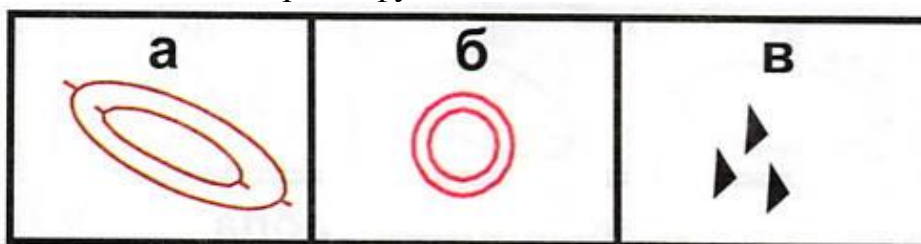
поверхность с микронеровностями



Правильный ответ:

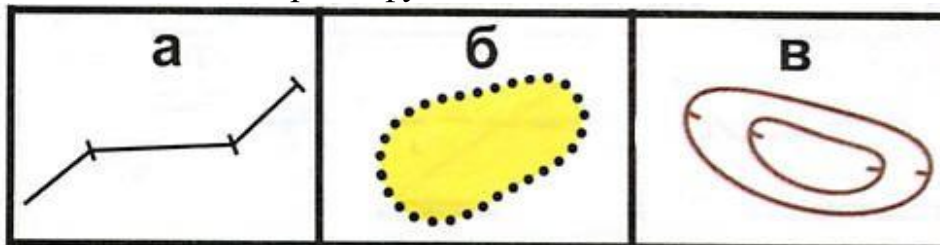
3 задание

Какой условный знак относится к рельефу?



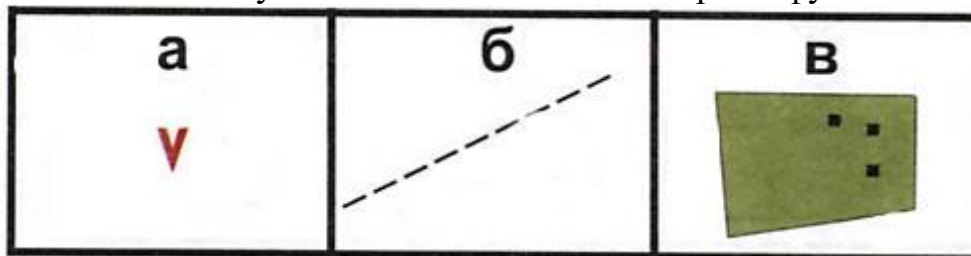
Правильный ответ:

Какой условный знак относится к рельефу?



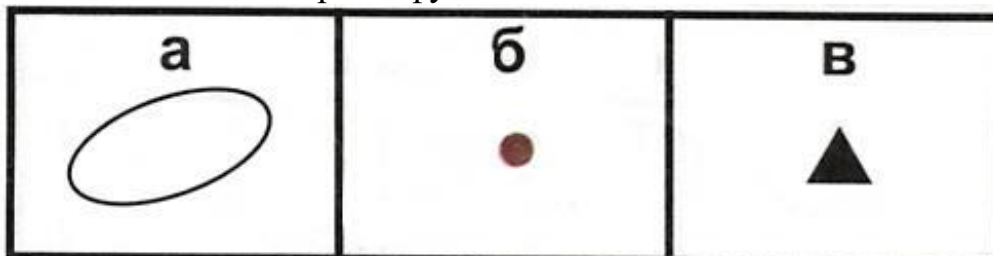
Правильный ответ:

Какой условный знак относится к рельефу?



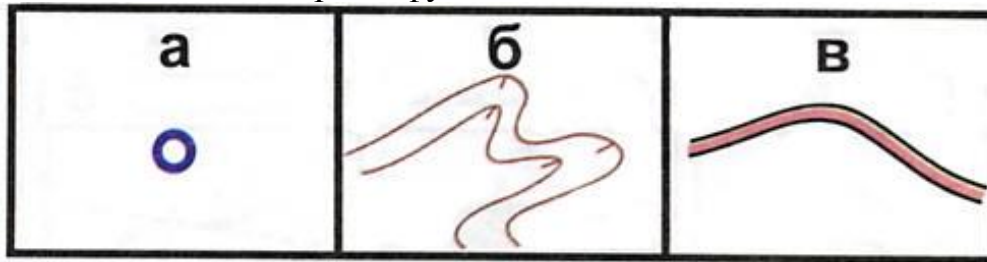
Правильный ответ:

Какой условный знак относится к рельефу?



Правильный ответ:

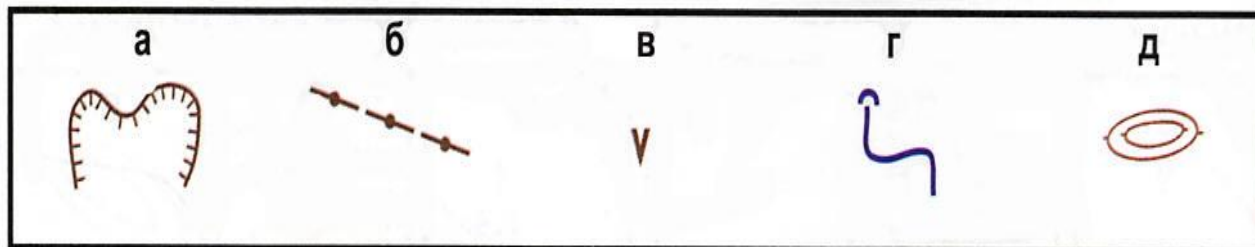
Какой условный знак относится к рельефу?



Правильный ответ:

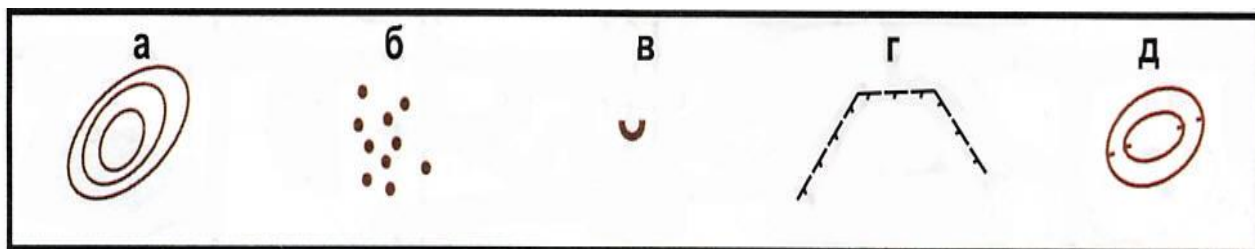
4 задание

Исключите лишний условный знак.



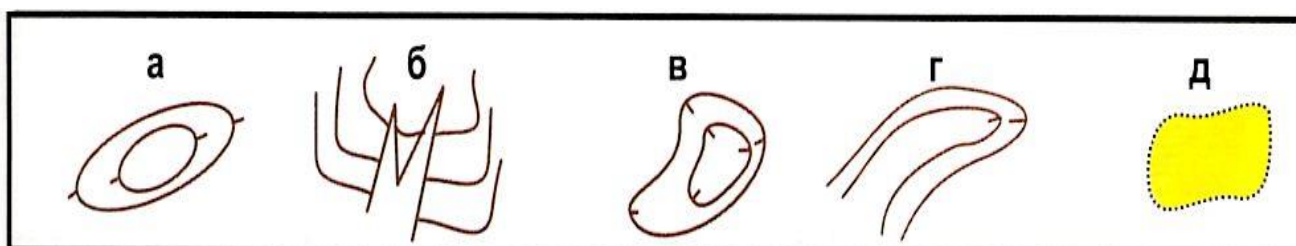
Правильный ответ:

Исключите лишний условный знак.



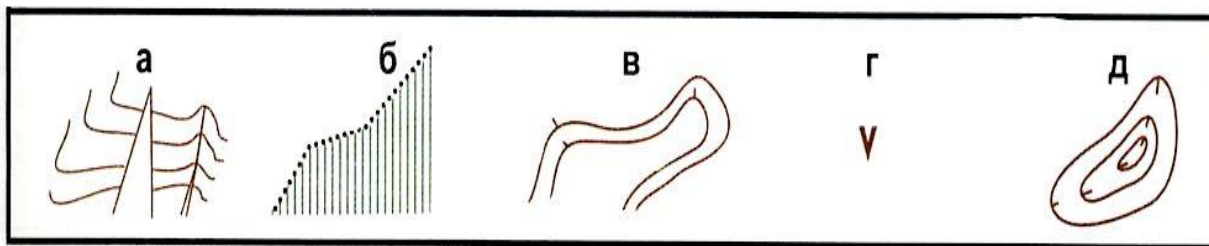
Правильный ответ:

Исключите лишний условный знак.



Правильный ответ:

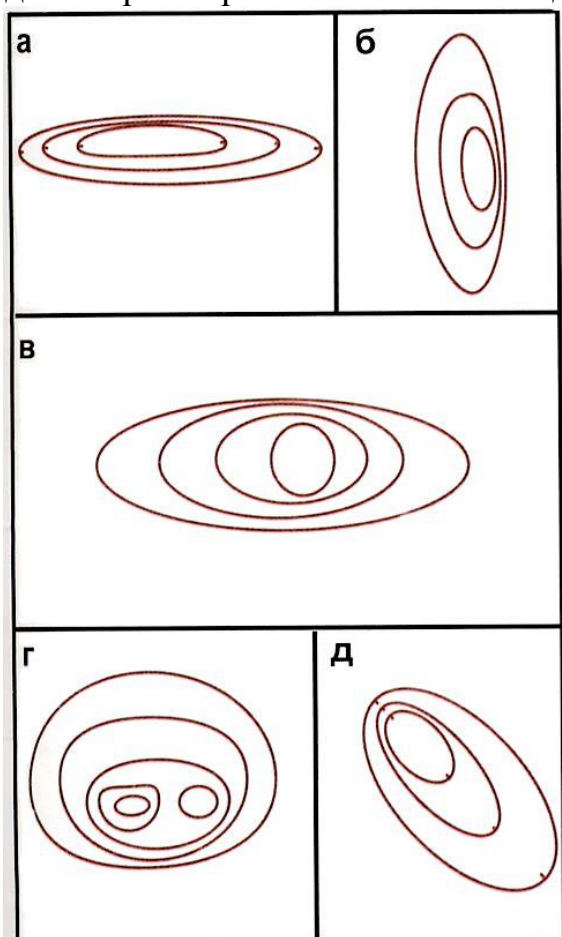
Исключите лишний условный знак.



Правильный ответ:

5 задание

Найдите справа правильное описание для рисунков:



Холм имеет две вершины, западная выше. Северный склон пологий.

Правильный ответ:

Холм с крутыми северным и южным склонами и слабым уклоном на запад и восток.

Правильный ответ:

Яма с крутым подъемом на северо-запад.

Правильный ответ:

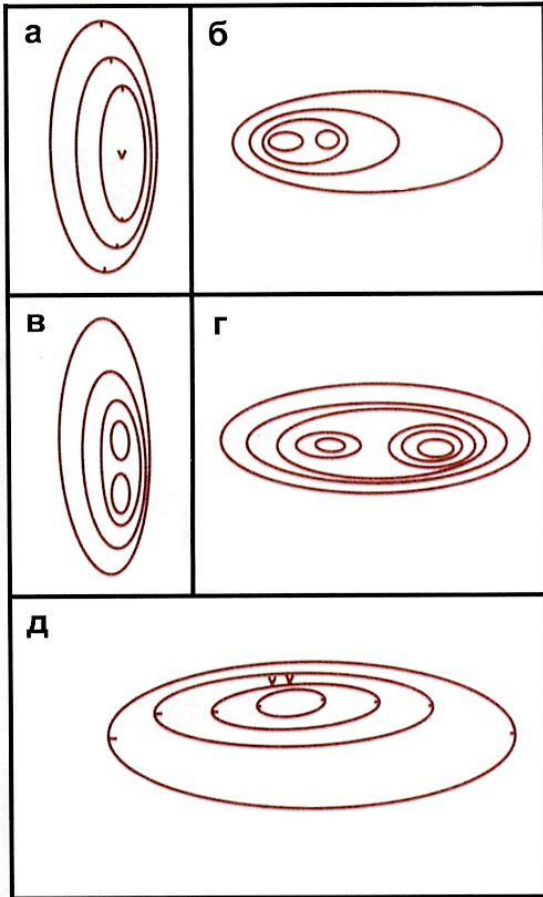
Яма, вытянутая в направлении запад-восток. Северный склон крутой.

Правильный ответ:

Холм вытянут в направлении север-юг, восточный склон крутой.

Правильный ответ:

Найдите справа правильное описание для рисунков:



Холм вытянут в направлении север-юг. Имеет две вершины, восточный склон крутой.

Правильный ответ:

Яма вытянута в направлении север-юг, восточный склон крутой, на дне - воронка.

Правильный ответ:

Холм вытянут в направлении запад-восток. Имеет две вершины. Западная ниже.

Правильный ответ:

Яма вытянута в направлении запад-восток, южный склон пологий, на северном - две воронки.

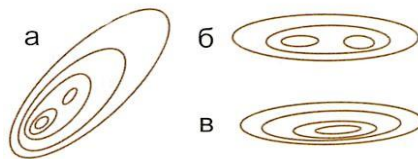
Правильный ответ:

Холм с двумя вершинами, крутой с запада и пологий с востока.

Правильный ответ:

6 задание

Холм, вытянут в направлении запад-восток. Имеет две вершины.



Правильный ответ:

Холм, вытянут в направлении запад-восток. Северный склон крутой. Восточная вершина выше.




Правильный ответ:

Холм с крутым северным склоном.



Правильный ответ:

Яма, вытянута в направлении запад-восток. Северный склон пологий.



Правильный ответ:

Холм, вытянут в направлении север-юг. Южная вершина выше.



Правильный ответ:

Холм с крутым юго-западным склоном. Южная вершина выше.



Правильный ответ:

Яма с крутым подъемом на северо-запад.



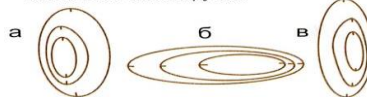
Правильный ответ:

Холм с двумя вершинами. Пологий с севера и юга, крутой с запада и востока.



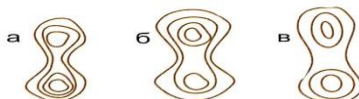
Правильный ответ:

Яма, вытянута в направлении север-юг. Восточный склон крутой.



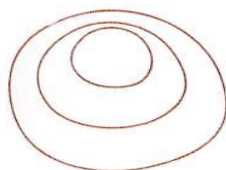
Правильный ответ:

Седловина с высокой южной горой.



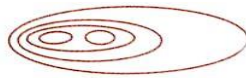
Правильный ответ:

7 задание



- а) холм с крутым южным склоном
- б) холм, почти круглый, крутой с севера и пологий с юга
- в) яма с крутым северным склоном

Правильный ответ:



- а) холм с двумя вершинами, крутой с запада и пологий с востока
- б) яма с крутым западным склоном
- в) холм с двумя вершинами, крутой с востока и пологий с запада

Правильный ответ:



- а) холм с крутым западным склоном
- б) яма вытянута в направлении север-юг, восточный склон пологий
- в) яма с крутым восточным склоном. Вытянута в направлении север-юг

Правильный ответ:



- а) яма вытянута в направлении север-юг
- б) холм вытянут в направлении север-юг, южная вершина выше
- в) холм вытянут в направлении север-юг, северная вершина выше

Правильный ответ:



- а) яма вытянута в направлении север-юг, юго-западный склон крутой
- б) холм с крутым юго-восточным склоном
- в) яма вытянута в направлении север-юг. Юго-восточный склон крутой

Правильный ответ:

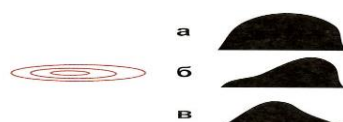


- а) холм с двумя вершинами и крутым северо-западным склоном
- б) яма с крутым северо-западным склоном
- в) холм с крутым северо-восточным склоном. Имеет две одинаковые вершины

Правильный ответ:

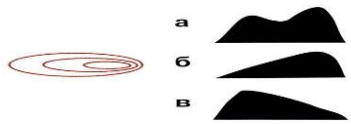


8 задание




Правильный ответ:

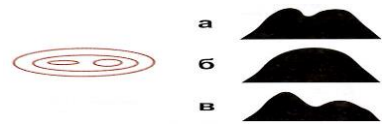




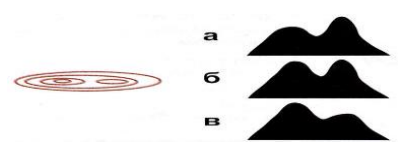
Правильный ответ:



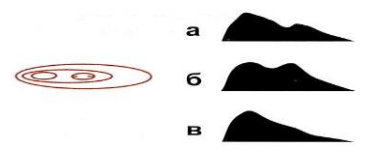
Правильный ответ:



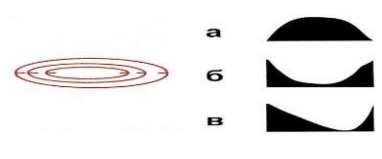
Правильный ответ:



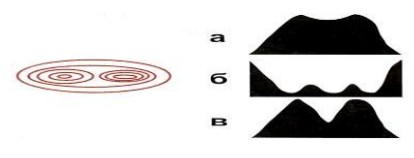
Правильный ответ:



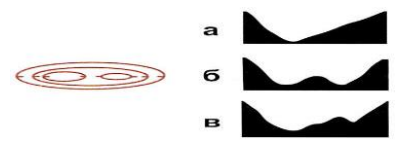
Правильный ответ:




Правильный ответ:



Правильный ответ:

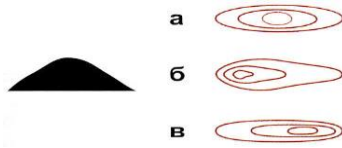


Правильный ответ:

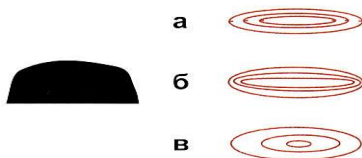


Правильный ответ:

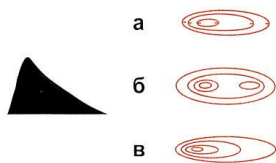
9 задание



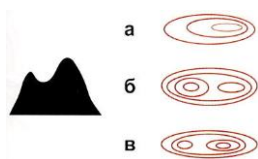
Правильный ответ:



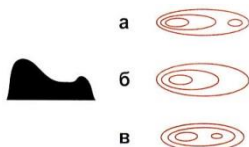
Правильный ответ:



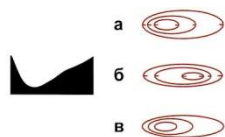
Правильный ответ:



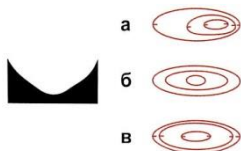
Правильный ответ:



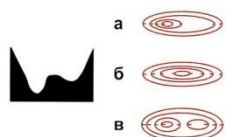
Правильный ответ:



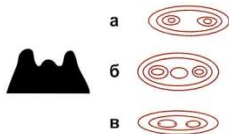
Правильный ответ:



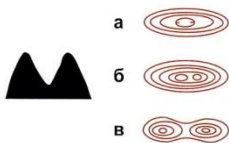
Правильный ответ:



Правильный ответ:



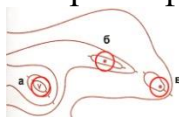
Правильный ответ:



Правильный ответ:

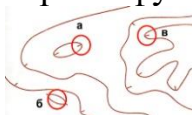
10 задание

Какой контрольный пункт стоит **ВЫШЕ** по рельефу?



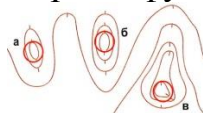
Правильный ответ:

Какой контрольный пункт стоит **выше** по рельефу?



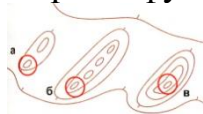
Правильный ответ:

Какой контрольный пункт стоит **выше** по рельефу?



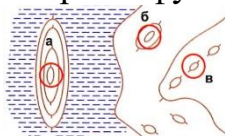
Правильный ответ:

Какой контрольный пункт стоит **выше** по рельефу?



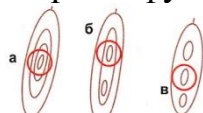
Правильный ответ:

Какой контрольный пункт стоит **выше** по рельефу?



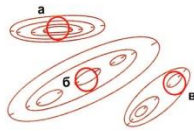
Правильный ответ:

Какой контрольный пункт стоит **выше** по рельефу?



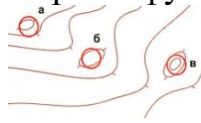
Правильный ответ:

Какой контрольный пункт стоит **выше** по рельефу?



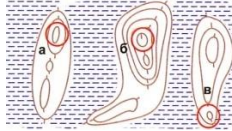
Правильный ответ:

Какой контрольный пункт стоит **выше** по рельефу?



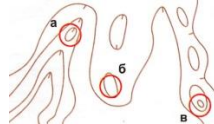
Правильный ответ:

Какой контрольный пункт стоит **выше** по рельефу?



Правильный ответ:

Какой контрольный пункт стоит **выше** по рельефу?



Правильный ответ:

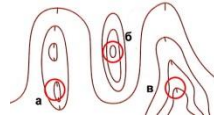
11 задание

Какой контрольный пункт стоит **НИЖЕ** по рельефу?



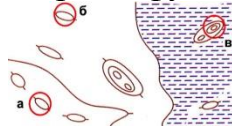
Правильный ответ:

Какой контрольный пункт стоит **ниже** по рельефу?



Правильный ответ:

Какой контрольный пункт стоит **ниже** по рельефу?



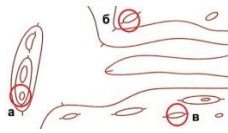
Правильный ответ:

Какой контрольный пункт стоит **ниже** по рельефу?



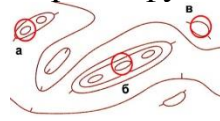
Правильный ответ:

Какой контрольный пункт стоит **ниже** по рельефу?



Правильный ответ:

Какой контрольный пункт стоит **ниже** по рельефу?



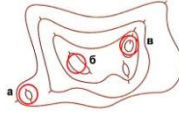
Правильный ответ:

Какой контрольный пункт стоит **ниже** по рельефу?



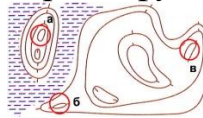
Правильный ответ:

Какой контрольный пункт стоит **ниже** по рельефу?



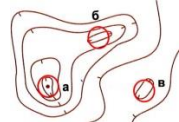
Правильный ответ:

Какой контрольный пункт стоит **ниже** по рельефу?



Правильный ответ:

Какой контрольный пункт стоит **ниже** по рельефу?

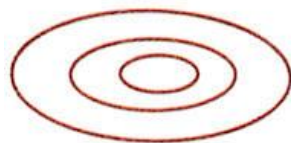


Правильный ответ:

12 задание

Сколько метров высота горы, если первая горизонталь обозначает нулевой уровень?

Высота сечений рельефа - 5 м.



а) от 15 до 20м

б) от 10 до 15 м

в) 20метров

Правильный ответ:

Сколько метров глубина ямы?
Высота сечений рельефа - 5 м.



а) 20 метров

б) от 10 до 15 м

в) от 15 до 20 м

Правильный ответ:

Высота какой горы около 7 метров?
Высота сечений рельефа - 2,5 м.

а

б

в



Правильный ответ:

Глубина какой ямы около 13 м?
Высота сечений рельефа - 5 м.

а

б

в



Правильный ответ:
