

### Задание №1

Все знаки спортивных карт делятся на пять групп. Перечислите их:

1. \_\_\_\_\_
2. \_\_\_\_\_
3. \_\_\_\_\_
4. \_\_\_\_\_
5. \_\_\_\_\_

### Задание №2

Нарисуйте по пять знаков каждой группы. Подпишите их.

Группа линейных ориентиров

1.		
2.		
3.		
4.		
5.		

Группа точечных ориентиров

1.		
2.		
3.		
4.		
5.		

Группа площадных ориентиров

1.		
2.		
3.		
4.		
5.		

### Задание №3

Нарисуйте и подпишите названия условных знаков, с помощью которых карта может быть сориентирована по сторонам горизонта.

1. \_\_\_\_\_
2. \_\_\_\_\_
3. \_\_\_\_\_
4. \_\_\_\_\_
5. \_\_\_\_\_

### Задание №4

Всё многообразие объектов на местности выражают на спортивных картах шестью цветами. Запишите, к какой группе относятся знаки, обозначенные данным цветом, приведите примеры, изобразив их:

Коричневым

--	--	--	--

Голубым \_\_\_\_\_

--	--	--	--

Жёлтым \_\_\_\_\_

--	--	--	--

Белым \_\_\_\_\_

Зелёным \_\_\_\_\_

--	--	--	--

Чёрным \_\_\_\_\_

--	--	--	--

### Задание №5

Цветными карандашами зарисуйте по памяти в тетрадь следующие знаки:

Наименование знака	Изображение	Наименование знака	Изображение
ОТКРЫТОЕ ПРОСТРАНСТВО		РАЗВИЛКА ДОРОГ	
НЕПРОХОДИМАЯ РАСТИТЕЛЬНОСТЬ		УЗКАЯ ПРОСЕКА	
ЧЁТКАЯ ГРАНИЦА РАСТИТЕЛЬНОСТИ		ШИРОКАЯ ПРОСЕКА	
ОТДЕЛЬНО СТОЯЩЕЕ ДЕРЕВО		ЖЕЛЕЗНАЯ ДОРОГА	
ШОССЕ		ВЫСОКАЯ ОГРАДА	
УЛУЧШЕННАЯ ДОРОГА		ОГРАДА	
ГРУНТОВАЯ ДОРОГА		РАЗРУШЕННАЯ ОГРАДА	
ТРОПИНКА		ПРОХОД В ОГРАДЕ	
ИСЧЕЗАЮЩАЯ ТРОПИНКА		ОТДЕЛЬНАЯ ПОСТРОЙКА	
ЗАСТРОЕННАЯ ТЕРРИТОРИЯ		НЕЧЁТКОЕ БОЛОТО	
РАЗВАЛИНЫ		КОЛОДЕЦ	
СТРЕЛЬБИЩЕ		РОДНИК	

КЛАДБИЩЕ		МУРАВЕЙНИК	
КОРЧ, ПЕНЬ		МАЛЕНЬКАЯ РПОМОИНА	
КАМЕНЬ		МИКРОБУГОРОК	
ЛУЖА (ЯМА С ВОДОЙ)		ЯМА	
МАЛЕНЬКАЯ БАШНЯ		ВНЕМАСШТАБНА Я ЯМА (МИКРОЯМА)	
КОРМУШКА		ИСКУСТВЕННАЯ ВНЕМАСШТАБНА Я ЯМА (ВОРОНКА)	
ПРЕОДОЛИМЫЙ РУЧЕЙ		БУГОР	
КАНАВА С ВОДОЙ		ГРУНТОВЫЙ ОБРЫВ	

### Задание №6

Определите, какой из условных знаков в данной строке лишний, и объясните, почему?

*Пример:*

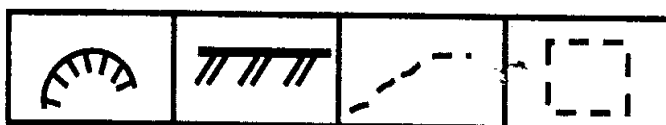


*Данный условный знак является лишним, т.к. только он относится к группе линейных ориентиров.*

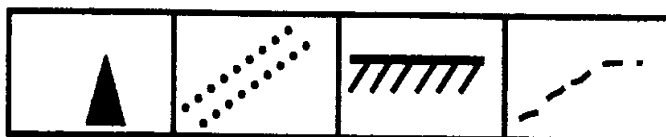
1.



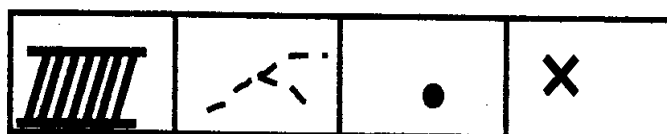
2.





















3.



4.



Задание №7. Укажите названия следующих условных знаков:

1.		
2		
3		
4		
5		
6		
7		
8		
9		
10		
11		
12		
13		
14		
15		
16		
17		
18		

**Задание №8.** Возьмите спортивную карту любого района. За 5 мин. найдите и зарисуйте в тетрадь наибольшее количество условных знаков. Подпишите их названия.

№	Знак	Название	№	Знак	Название
1			16		
2			17		
3			18		
4			19		
5			20		
6			21		
7			22		
8			23		
9			24		
10			25		
11			26		
12			27		
13			28		
14			29		
15			30		